














Materiał pomocniczy 1

Doświadczenie losowe – dwukrotny rzut zwykłą kostką sześcienną do gry. Wynikiem rzutu jest suma oczek otrzymana na obu kostkach.

Oto wszystkie możliwe wyniki w tym doświadczeniu:

						
	2	3	4	5	6	7
	3	4	5	6	7	8
	4	5	6	7	8	9
	5	6	7	8	9	10
	6	7	8	9	10	11
	7	8	9	10	11	12

Przykładowe zdarzenia losowe:

- suma oczek jest parzysta: {2, 4, 6, 8, 10, 12},
- suma oczek jest nieparzysta: {3, 5, 7, 9, 11}.

Czy te zdarzenia są jednakowo prawdopodobne?

Jakie jest prawdopodobieństwo każdego z nich?